

PRACOVNÝ LIST – ČAS



1. ÚLOHA

Predstav si, že si hodinár a máš 12 ručičkových hodínok.

Každé z nich ukazujú iný čas. Zapiš podľa vzoru, koľko je hodín.



jedna hodina























Modrou vyfarbi hodinky, ktoré ukazujú párnny počet hodín.

Zelenou vyfarbi hodinky, ktoré ukazujú nepárny počet hodín.

Červenou zakrúžkuj hodinky, ktoré ukazujú poľnoc.

2. ÚLOHA

Napiš, aký digitálny čas ukazujú hodinky z 1. úlohy.

Zapiš podľa vzoru.



13 : 00
























Žltou vyfarbi hodinky, ktoré ukazujú 3 hodiny.

Hnedou vyfarbi hodinky, ktoré ukazujú 4 hodiny.

Fialovou vyfarbi hodinky, ktoré ukazujú 7 hodín.

 Koľko minút je rozdiel medzi časom na žltých a hnedých hodinkách? _____

 Koľko minút je rozdiel medzi časom na žltých a fialových hodinkách? _____

 Koľko minút je rozdiel medzi časom na hnedých a fialových hodinkách? _____

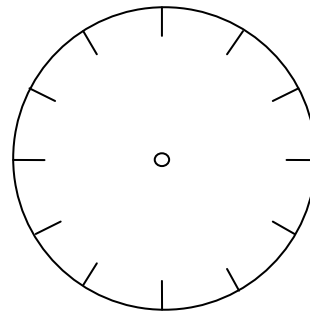
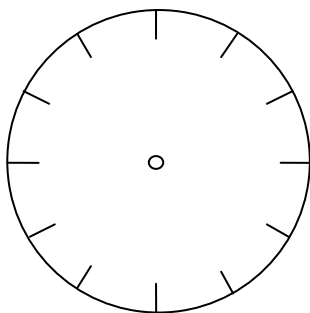
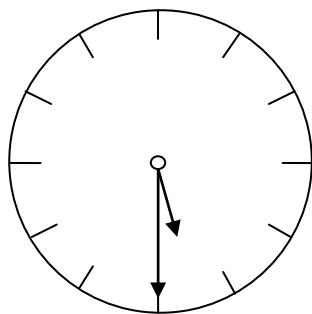


3. ÚLOHA

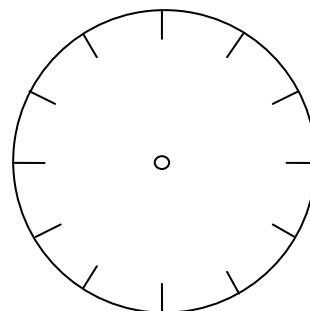
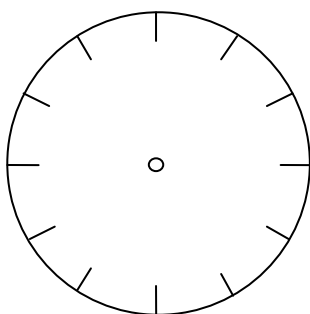
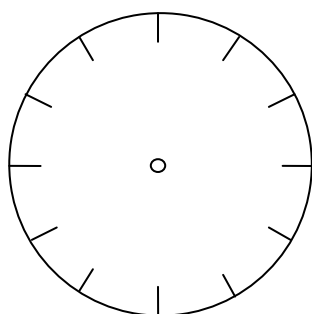
Zapíš podľa vzoru, aký digitálny čas ukazujú hodinky.

Nakresli malú a veľkú ručičku do prázdnych hodínok.

Pol šiestej ráno 5 : 30 Štvrť na štyri poobede _____ Trištvrté na dvanásť na obed _____



Pol desiatej doobeda _____ Štvrť na osem večer _____ Trištvrté na jedenásť v noci _____



4. ÚLOHA

Je pol štvrtej poobede.

O piatej ti príde návšteva do hodinárstva.


Koľko minút ti ešte ostáva do jej príchodu?


Zapíš.



5. ÚLOHA

Napíš, aký digitálny čas ukazujú ručičkové hodinky, ak

 malá ručička sa prekrýva s veľkou ručičkou _____

 malá ručička s veľkou ručičkou rozdeľujú hodinky na dve polovice _____

